

Naam:

2 C D E F

### H 7.2 Aanzichten


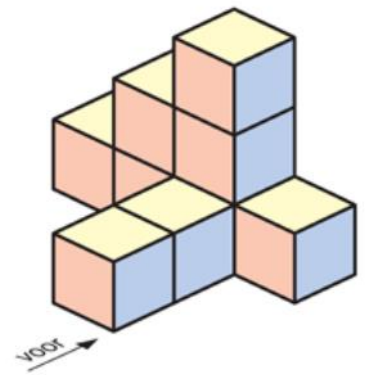
Hiernaast staat een bouwwerk van blokjes. Elk kubusje is  $1\text{ cm} \times 1\text{ cm} \times 1\text{ cm}$ .

1 Uit hoeveel blokjes bestaat het bouwwerk?

.....

2 Teken het bovenaanzicht.

Zet de getallen er in die aangeven hoeveel blokjes op elkaar gestapeld zijn.

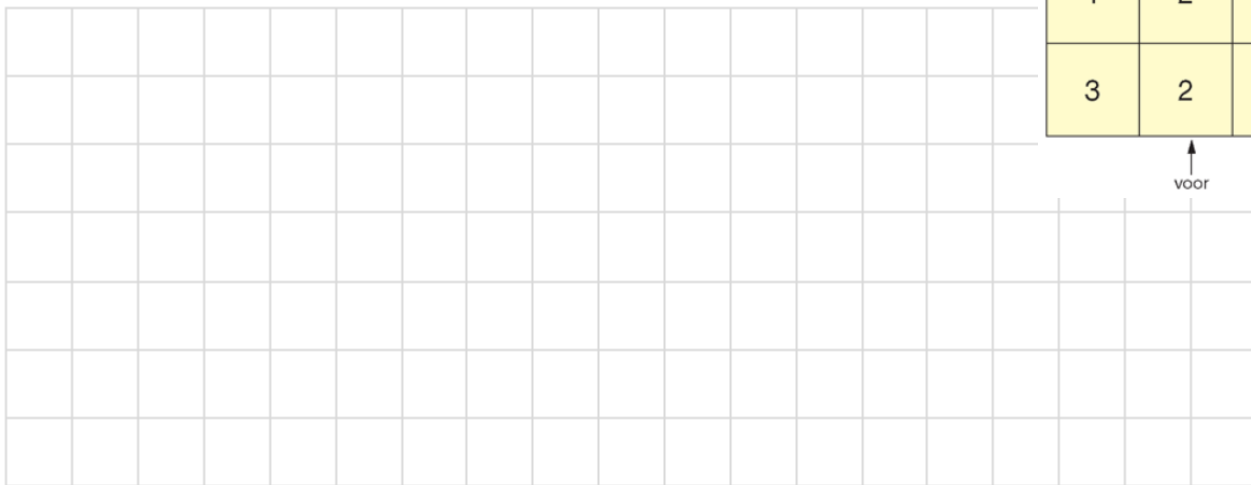


Hiernaast staat een bovenaanzicht van een andere bouwwerk van blokjes.

3 Teken het rechterzijaanzicht.

1	2	3	1
1	2	5	2
3	2	1	1

↑  
voor



4 Hoeveel kubusjes kun je weghalen zonder dat het vooraanzicht verandert?

.....