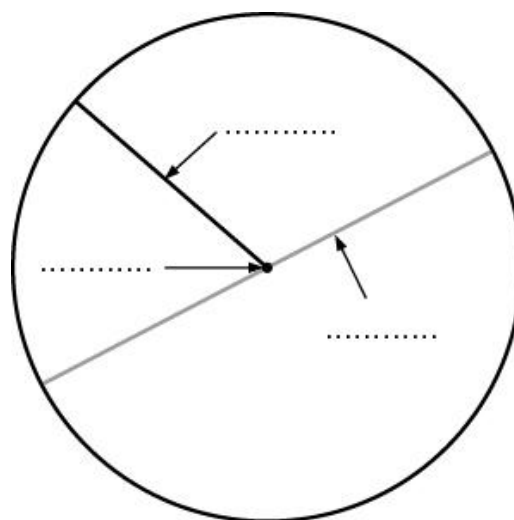


**OPPERVLAKTE CIRKEL**

**OPGAVE 1**

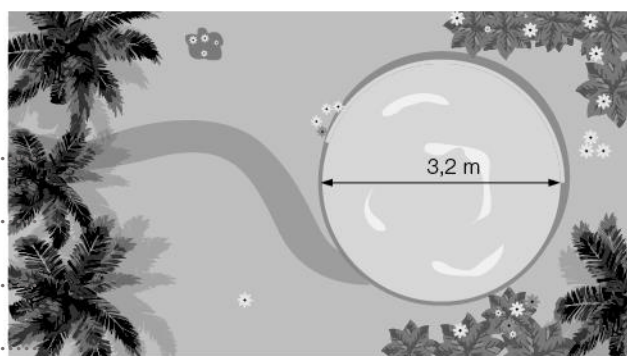
2p Bekijk de cirkel hiernaast.  
Vul de juiste woorden in.



**OPGAVE 2**

4p Gerard heeft in zijn tuin een ronde vijver.  
De vijver heeft een straal van 1,6 m.

Bereken de oppervlakte van de vijver.  
Rond af op twee decimalen.



.....

.....

.....

.....

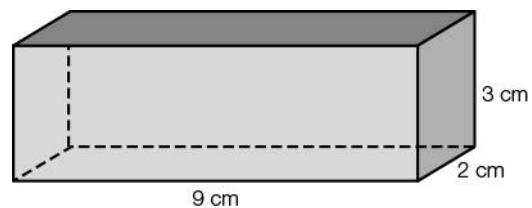
.....

.....

**OPPERVLAKTE RUIMTEFIGUREN**

**OPGAVE 3**

4p Bereken de oppervlakte van de balk hiernaast  
in cm<sup>2</sup>.



voorkant .....

achterkant .....

rechterzijdant .....

linkerzijdant .....

bovenkant .....

onderkant .....

oppervlakte balk = .....