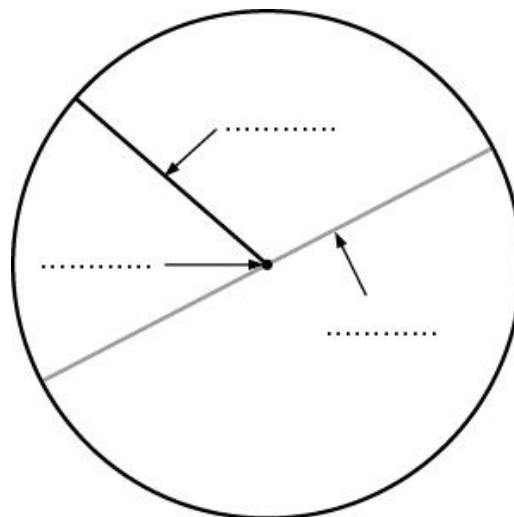


**OPPERVLAKTE CIRKEL**

**OPGAVE 1**

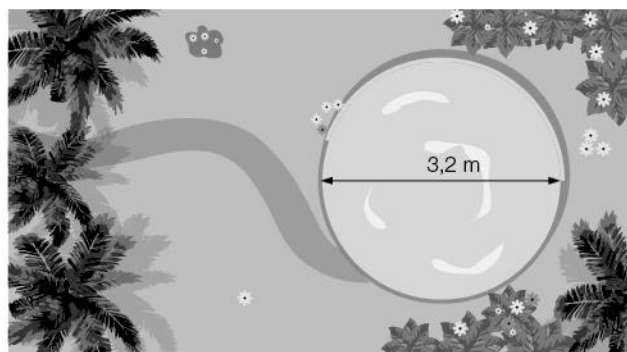
2p Bekijk de cirkel hiernaast.  
Vul de juiste woorden in.



**OPGAVE 2**

4p Gerard heeft in zijn tuin een ronde vijver.  
De vijver heeft een straal van 1,6 m.

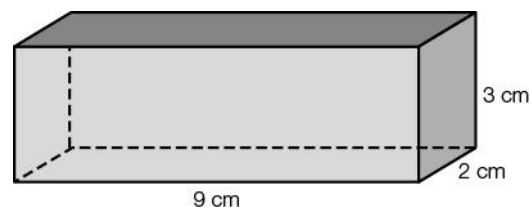
Bereken de oppervlakte van de vijver.  
Rond af op twee decimalen.



**OPPERVLAKTE RUIMTEFIGUREN**

**OPGAVE 3**

4p Bereken de oppervlakte van de balk hiernaast  
in  $\text{cm}^2$ .



**OPGAVE 4**

6p Bereken de oppervlakte van het blik hiernaast in  $\text{cm}^2$ .  
Rond af op hele  $\text{cm}^2$ .

