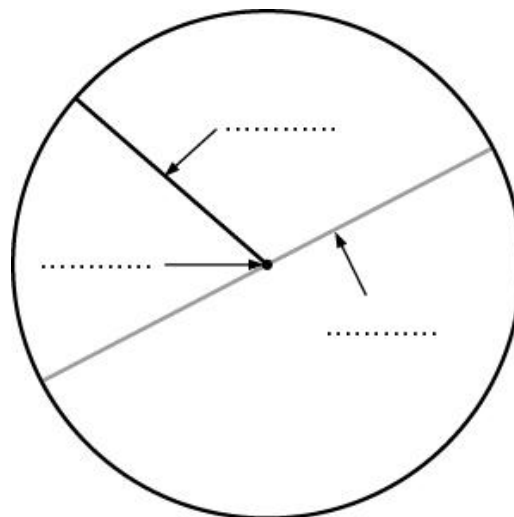


OPPERVLAKTE CIRKEL

OPGAVE 1

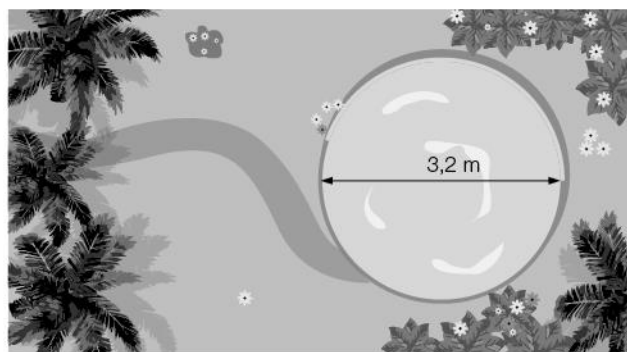
2p Bekijk de cirkel hiernaast.
Vul de juiste woorden in.



OPGAVE 2

4p Gerard heeft in zijn tuin een ronde vijver.
De vijver heeft een straal van 1,6 m.

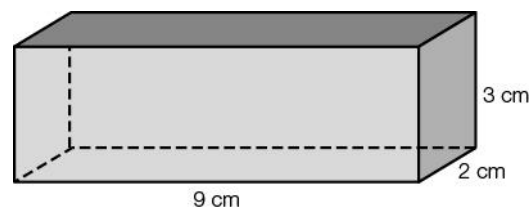
Bereken de oppervlakte van de vijver.
Rond af op twee decimalen.



OPPERVLAKTE RUIMTEFIGUREN

OPGAVE 3

4p Bereken de oppervlakte van de balk hiernaast
in cm^2 .



OPGAVE 4

6p Bereken de oppervlakte van het blik hiernaast in cm^2 .
Rond af op hele cm^2 .

